

ВСЕРОССИЙСКАЯ ОЛИМПИАДА ШКОЛЬНИКОВ ПО ГЕОГРАФИИ
2023-2024 УЧЕБНОГО ГОДА. ШКОЛЬНЫЙ ЭТАП 7 КЛАСС.

Тестовый тур

Задание 1. Прочитайте задание и выберите из предложенных ответов один правильный.

За каждый правильный ответ – 2 балл.

Максимально за тестовый раунд – 30 баллов.

1. Планом местности называют:

- A) Эскиз B) Рисунок C) Графику D) Чертеж E) Фотографию

2 б

2. Прибор для измерения высоты холма на местности:

- A) Планшет B) Анемометр C) Барометр D) Компас E) Нивелир

2 б

3. Масштаб указывает на:

- A) Увеличение расстояния на плане по сравнению с действительностью

- B) Объекты на местности C) Направления на плане

- D) Уменьшение расстояния на плане по сравнению с действительностью

- E) Вид земной поверхности

4. Направление север – юг на карте и глобусе показано:

- A) Изолиниями B) Меридианами C) Параллелями D) Координатами E) Изотермами

5. Условная линия на плане, соединяющая точки с одинаковой абсолютной высотой:

- A) Бергштрих B) Изобара C) Горизонталь D) Изохора E) Изотерма

6. Более подробное изображение небольшого участка земной поверхности дано:

- A) На карте Казахстана B) На карте полушарий C) На карте океанов

- D) На плане местности E) На глобусе

7. Нулевой меридиан проходит через город:

- A) Берлин B) Мадрид C) Париж D) Лондон E) Рим

8. Первый глобус был создан М. Бехаймом в:

- A) XVII в. B) XIII в. C) XV в. D) XIV в. E) XVI в.

9. Широту и долготу точки земной поверхности называют:

- А) Точками измерения В) Географическими координатами
 С) Указателями карты Д) Точками ориентирования
 Е) Горизонталями

10. Длина экватора составляет:

- А) 40000 км В) 10000 км С) 20000 км Д) 30000 км Е) 50000 км

11. Не относится к тематическим картам:

- А) Почвенная В) Климатическая С) Политическая Д) Топографическая
 Е) Тектоническая

12. Меридианом называют кратчайшую линию, между:

- А) Магнитными полюсами Земли В) Географическими полюсами Земли
 С) Экватором и северным полюсом Д) 00 и 1800 меридианами
 Е) Экватором и южным полюсом

13. Ширину реки можно определить на:

- А) Фотоснимке В) Политической карте С) Физической карте Д) Плана местности
 Е) Рисунке

14. На плане стороны горизонта определяют по:

- А) Горизонталям В) Рамке плана С) Параллелям Д) Изолиниям Е) Меридианам

15. Горизонтали – это линии на плане местности, соединяющие точки с одинаковыми показателями:

- А) Абсолютной высоты В) Температуры С) Осадков Д) Давления Е) Длины

Вопрос	1	2	3	4	5	6	7	8
Ответ	D ₂₅	E ₂₅	D ₂₅	B ₂₅	C ₂₅	D ₂₅	D ₂₅	C ₂₅

9	10	11	12	13	14	15
B ₂₅	A ₂₅	D ₂₅	B ₂₅	D ₂₅	B ₂₅	A ₂₅

Теоретический тур

Задание 2.

Определите, какие продукты вулканического извержения описываются в стихотворении А. С. Пушкина (10 баллов)

Везувий зев открыл –
Дым хлынул клубом – пламя
Широко разлилось,
Как боевое знамя.
Земля волнуется –
С шатнувшихся колонн
Кумиры падают!
Народ, гонимый страхом,
Под каменным дождем,
Под воспаленным прахом.
Толпами, стар и млад,
Бежит из града вон.

05

Задание 3. (количество баллов – 10)


На Земле есть замечательный материк. Следуя на корабле вдоль его берегов с запада на восток, путешественник пересечет три океана; север и юг на этом материке мгновенно «меняются» местами. И, наконец, в этих местах человек не всегда в состоянии отличить море от суши.

Какой это материк? Какие три океана можно пересечь? Почему север и юг мгновенно меняются местами? Почему в этих местах сложно отличить море от суши?

05

Задание 4.

Какой замечательный прибор изображен на рисунке? Где он был изобретен? Куда показывает рука человека? Какое он имеет отношение к географическим картам?



За прибор, изображенный на рисунке, - 10
балла, за остальные ответы с обоснованием -
по 5 баллов. Максимальная оценка - 25

05

Задание 5.

Вопрос 1. Какие неблагоприятные и опасные природные явления следует учесть при строительстве жилых зданий и промышленных сооружений на Японских островах? (5 баллов)

Землетрясения 05

Вопрос 2. Названия каких государств мира и их столиц совпадают? Выпишите названия этих стран. (10 баллов)

05

Вопрос 3. Какие изменения произошли бы в климате Ставропольского края, если бы Кавказские горы переместились бы на северную границу края? (10 баллов)

05

305


**ВСЕРОССИЙСКАЯ ОЛИМПИАДА ШКОЛЬНИКОВ ПО ГЕОГРАФИИ
2023-2024 УЧЕБНОГО ГОДА. ШКОЛЬНЫЙ ЭТАП 8 КЛАСС.
Тестовый раунд (каждый верный ответ 2 балла)**

1. Прибор, при помощи которого можно определить относительную влажность воздуха. Выберите один ответ:

- а) Барометр
- б) Анемометр
- в) Психрометр
- г) Термометр

25

2. Для какого народа данный продукт питания является традиционным?



Выберите один ответ:

- а) Корейцы
- б) Молдаване
- в) Итальянцы
- г) Испанцы

25

3. Ты переместился от Гринвичского меридиана вдоль экватора удаляясь от Африки на 333 км, затем от экватора по меридиану к Тропику Рака (Северному Тропику) на 555 км и оказался в пункте с координатами...

Выберите один ответ:

- а) 3° с.ш., 5°з.д.
- б) 3° ю.ш., 5° з.д.
- в) 5° ю.ш., 3° з.д.
- г) 5° с.ш., 3°з.д.

05

4. Какая страна Африки имеет выход к двум океанам:

- а) Марокко
- б) Египет
- в) Судан
- г) Сомали

05

5. Расстояние между городами равно 350 км. На карте это расстояние соответствует 7 см. Определите именованный масштаб карты. Выберите один ответ:

- а) в 1 см - 50 км
- б) 1:3000000
- в) в 1 см - 25 км
- г) 1:5000000

25

6. Самой низкой отметкой на Земном шаре является впадина:

- а) Ассаль;
- б) Гхор;
- в) Каттара;
- г) Турфанская

05

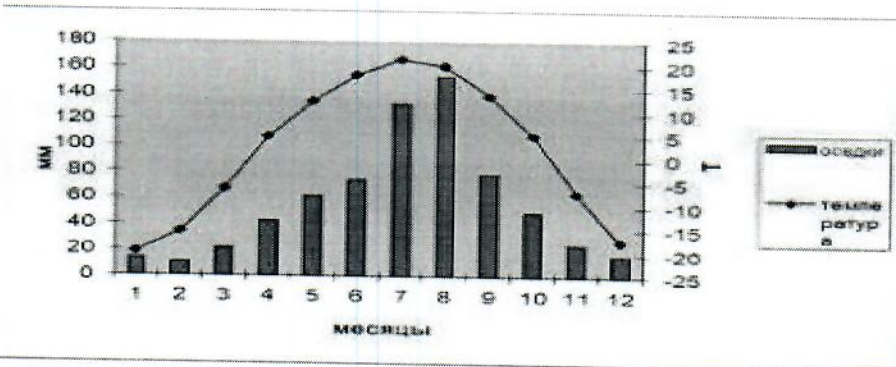
7. Выберите верное утверждение:

- а) Атмосферное давление воздуха понижается с высотой.
- б) Давление воздуха не зависит от его температуры.
- в) Атмосферное давление воздуха с высотой повышается
- г) Атмосферное давление воздуха одинаково на всех широтах.
- д) Нормальное атмосферное давление составляет 780 мм ртутного столба.

8. Какой ученый считается «отцом» теории дрейфа континентов?

- а) Ньютон;
- б) Вегенер;
- в) Эйнштейн;
- г) Агассиз

9. Пользуясь рисунком, определите, в каком климатическом поясе находится пункт, каков его тип климата.



Выберите один ответ:

- а) тропический пояс — континентальный
- б) умеренный пояс — морской
- в) субтропический пояс — средиземноморский
- г) умеренный пояс — муссонный

10. Большинство верующих какого из перечисленных народов исповедуют христианство? Выберите один ответ:

- а) Армяне
- б) Таджики
- в) Азербайджанцы
- г) Казахи

11. Когда Христофор Колумб открыл Америку?

- а) 1492 г.
- б) 1498 г.
- в) 1506 г.
- г) 1519 г.

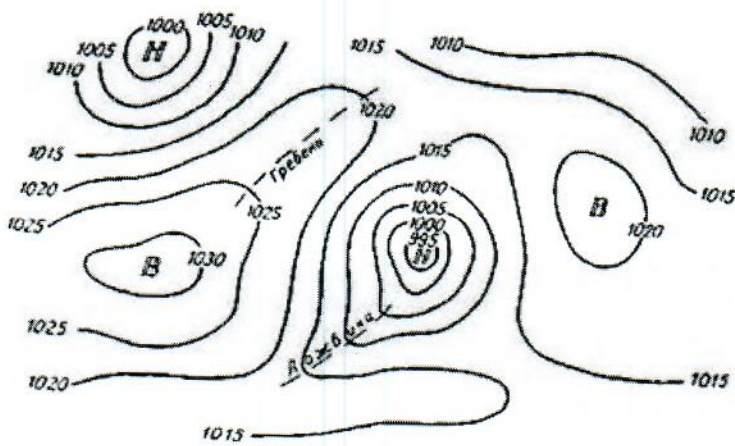
12. Какое соответствие «природная зона — типичный представитель её фауны» является верным?

- а) тайга — белый медведь
- б) тайга — белая сова
- в) степь — бурундук
- г) степь — суслик

13. Какое утверждение о движении воздушных масс является верным:

- а) Бризы меняют свое направление дважды в год;
- б) В тропических широтах господствуют западные ветры;
- в) Летом муссоны дуют с океана на материк;
- г) В умеренных широтах господствуют пассаты

14. Как называются изолинии, изображенные на рисунке



Выберите один ответ:

- а) Изогипсы
- б) Изобаты
- в) Изогеты
- г) Изобары

25

15. Какая природная зона отсутствует на материках Южного полушария?

- а) жестколистные вечнозелёные леса;
- б) саванны и редколесья;
- в) полупустыни и пустыни;
- г) тундра и лесотундра

25

Вопрос	1	2	3	4	5	6	7	8
Ответ								

9	10	11	12	13	14	15

Теоретический раунд.

Задание 1. (35 баллов)

Какой пролив одновременно соединяет два океана, два моря, разделяет два материка, две части света, два полуострова, два государства? Укажите название этого пролива и парами названия объектов, которые он соединяет или разъединяет.

05

Задание 2. (15 баллов)

На территории Южной Америки находится пустыня Атакама, которая известна всему миру своей сухостью. Назовите 3 основные причины, определившие формирование в Южной Америке пустыни Атакама.

05
